

Moi Uczniowie, witam Was bardzo serdecznie!

Tydzień temu mówiliśmy o źródłach energii elektrycznej.

Przypomnijmy sobie najważniejsze wiadomości...

Dzieliłiśmy je na odnawialne i nieodnawialne. Przyglądaliśmy się środowisku przyrodniczemu Europy, wiemy już, dlaczego w Europie funkcjonują elektrownie różnego rodzaju. Wiemy, że tam gdzie wieje silny wiatr buduje się elektrownie wiatrowe, wzdłuż rzek (zwłaszcza w górach) buduje się elektrownie wodne, tam gdzie mamy długie okresy nasłonecznienia buduje się elektrownie słoneczne.

Struktura produkcji energii elektrycznej w UE zmienia się. Powoli odchodzi się od elektrowni ciepłych, w których spala się głównie węgiel kamienny (negatywny wpływ na środowisko – duże zanieczyszczenie powietrza; wyczerpują się złoża surowców mineralnych). Stopniowo w pozyskiwaniu energii elektrycznej rośnie udział źródeł odnawialnych i energii jądrowej.

Dużo się teraz słyszy o trudnościach w utrzymaniu się wielu dziedzin gospodarki. Wymienia się wśród nich branżę turystyczną. Zarabia ona przede wszystkim wtedy, gdy ludzie mogą swobodnie przemieszczać się i odwiedzać atrakcyjne turystyczne i regiony świata.

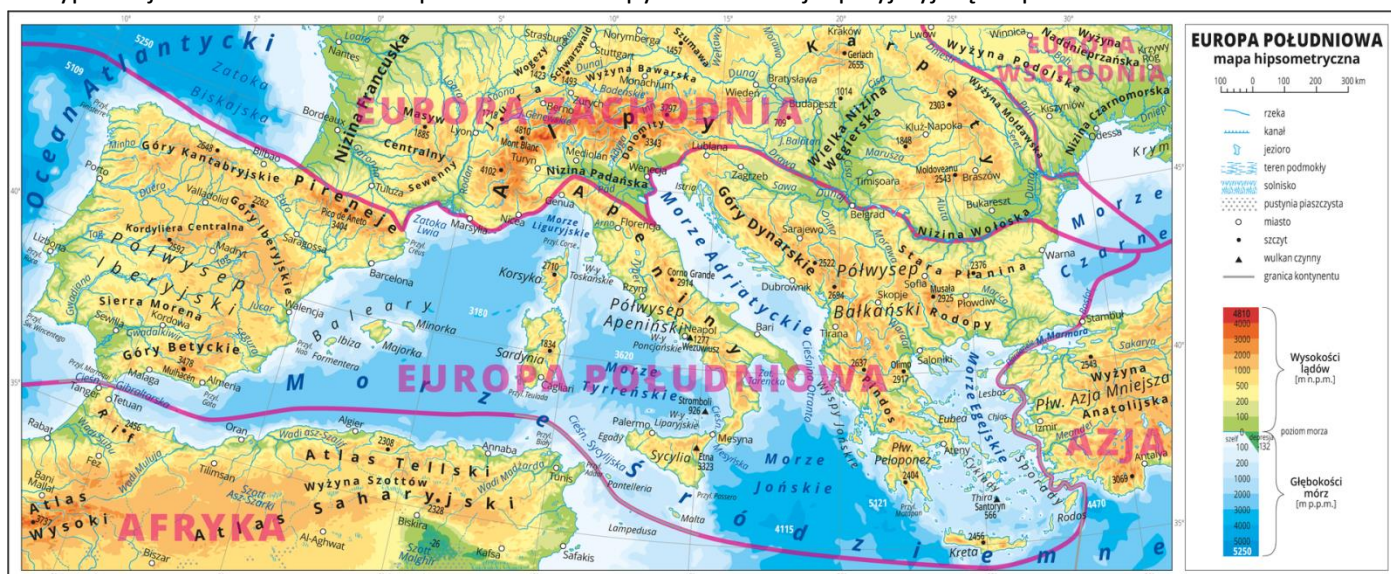
Poznajmy dziś, co przyciąga turystów na południe Europy.

Geografia klasa 6

Temat: Turystyka w Europie południowej.

Cele lekcji	Kryteria sukcesu
Poznasz walory przyrodnicze i kulturowe Europy Południowej. Dowiesz się, czym jest infrastruktura turystyczna.	<ul style="list-style-type: none">- wymieniam walory przyrodnicze Europy Południowej na podstawie mapy ogólnogeograficznej- wymieniam elementy infrastruktury turystycznej- wymieniam atrakcje turystyczne w wybranych krajach Europy Południowej na podstawie mapy tematycznej i fotografii

Przypomnij sobie ukształtowanie powierzchni Europy Południowej – przyjrzyj się mapie.

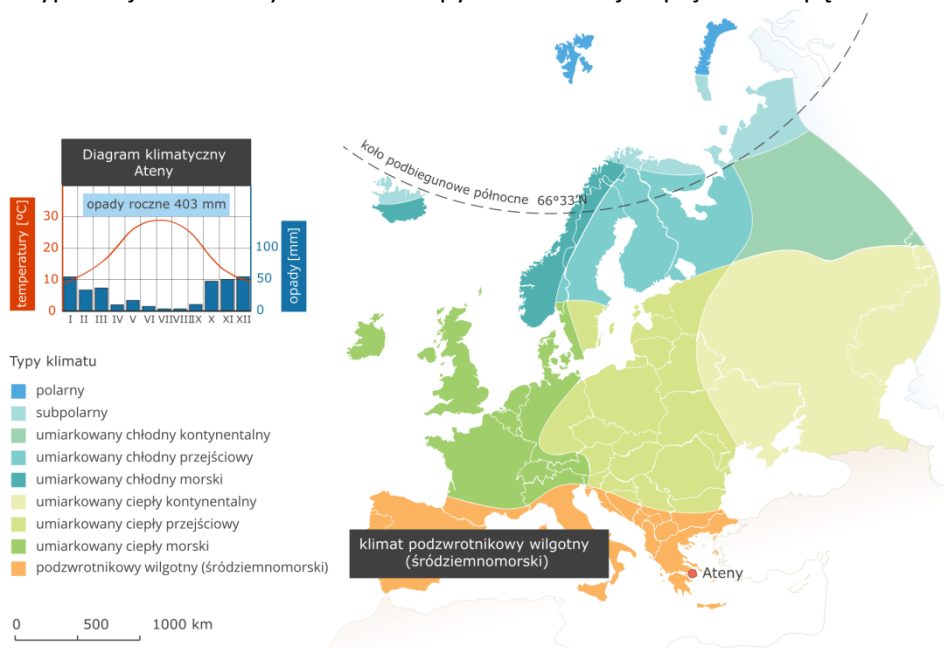


Źródło: epodreczniki.pl

Europa Południowa to region nad Morzem Śródziemnym obejmujący **3 duże półwyspy** – Iberyjski, Apeniński i Bałkański – oraz **śródziemnomorskie wyspy** należące do naszego kontynentu.

Na ukształtowanie powierzchni Europy Południowej składają się głównie **łańcuchy młodych gór**. W regionie tym występują trzęsienia ziemi i znajduje się też kilka czynnych wulkanów. Wybrzeże jest bardzo urozmaicone.

Przypomnij sobie cechy klimatu Europy Południowej – spójrz na mapę.




Klimat ten obejmuje Europę Południową i nazywany jest też klimatem śródoziemnomorskim. Do jego najważniejszych cech należą:


- **łagodne, ciepłe i wilgotne zimy** ze średnią temperaturą powietrza od 5°C do 12°C;
- **suche, gorące lata** ze średnią temperaturą powietrza od 22°C do 28°C;
- roczne sumy opadów wynoszące od 400 mm do 600 mm.

Źródło: epodreczniki.pl

Europę Południową znasz też z lekcji historii. To właśnie na południu Europy rozwinęły się cywilizacje starożytnej Grecji i starożytnego Rzymu. Została po nich ogromna liczba zabytków, np.



Koloseum w Rzymie



Akropol w Grecji



Źródło zdjęć: pixabay.com

Dubrownik w Chorwacji

Poznaliście, czym są walory turystyczne.

Ustalmy ich definicję.

Walory turystyczne to cechy środowiska przyrodniczego lub objekty kultury, które budzą zainteresowanie turystów. Dzielimy je zatem na walory przyrodnicze i kulturowe.

Podsumujmy. Przeczytaj i przyjrzyj się poniższej mapie.

Walory przyrodnicze Europy Południowej to:

- klimat podzwrotnikowy, który sprzyja letniemu wypoczynkowi,
- Morze Śródziemne jest ciepłe i ma urozmaicone wybrzeże,
- plaże, klify, piękne zatoki i wyspy,
- urozmaicona rzeźba terenu, są tu łańcuchy górskie, jak i obszary o rzeźbie krasowej.

Walory kulturowe Europy Południowej to:

- zabytki z czasów starożytnej Grecji i Rzymu,
- katedry, kościoły,
- muzea,
- folklor krajów śródziemnomorskich,
- kuchnia, tańce, festiwale.



Źródło: epodreczniki.pl

Zastanów się teraz, co jest potrzebne, do przyjęcia turystów?

Czego turysta potrzebuje, gdy odwiedza jakieś miejsce?

Infrastruktura turystyczna to wszystkie objekty i instytucje umożliwiające turystom korzystanie z walorów turystycznych odwiedzanych miejsc. Należą do nich:

- drogi,
- hotele,
- restauracje,

- biura podróży,
- wyciągi,
- wypożyczalnie,
- szlaki turystyczne,
- schroniska.

Turystyka odgrywa ważną rolę w gospodarce krajów Europy Południowej. Stwarza miejsca pracy i jest źródłem dochodów tych państw.

Zadanie dla chętnych na dodatkową ocenę wagi 3

1. Masz podręcznik? Zajrzyj na stronę 120-124 lub na stronę nowasp.ebooki.nowaera.pl
2. Zadanie

Wykonaj plakat, w formacie A4 (jedna strona) dowolną techniką, przedstawiający walory turystyczne wybranego przez siebie europejskiego kraju śródziemnomorskiego. Praca może być wykonana na komputerze lub odręcznie. Zrób zdjęcie lub zeskanuj – jeżeli praca była tworzona odręcznie, albo zapisz plik – jeżeli praca była tworzona na komputerze. Następnie pracę prześlij w terminie do 20 kwietnia br. na adres: esocho@spoko.edu.pl (Outlook w Office 365) lub elwira.socha@spoko.edu.pl

Uwaga! załączony plik podpisz kodem, tak jak na sprawdzianie! (np. 6D24)

Źródła

mapy i fragmenty tekstu - epodreczniki.pl

zdjęcia - pixabay.com